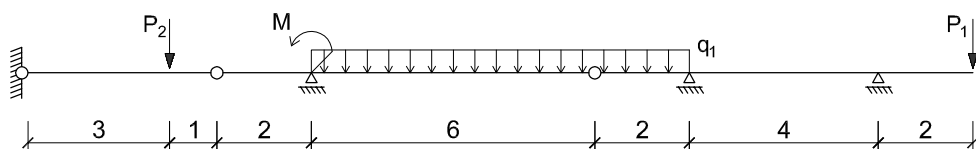
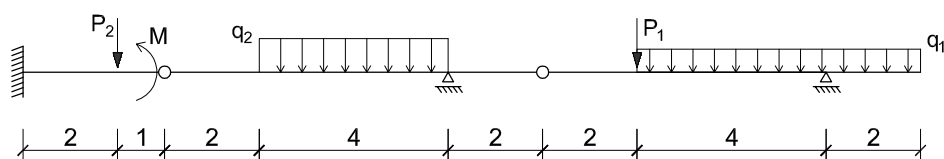
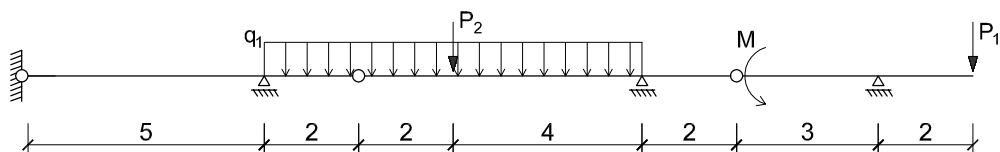
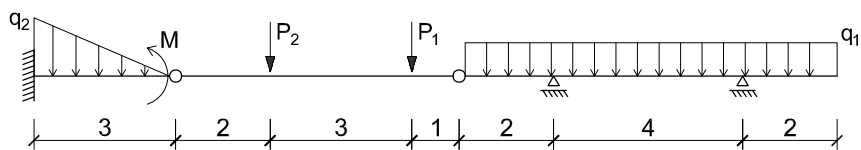


# PRZYKŁADY ZADAŃ Z WYTRZYMAŁOŚCI MATERIAŁÓW - SEM. II

Sporządzić wykresy M, T



$q_1=10\text{kN/m}$ ,  $q_2=18\text{kN/m}$ ,  $P_1=30\text{kN}$ ,  $P_2=42\text{kN}$ ,  $M=18\text{kNm}$